



Prénom

Date

À la fin, combien de points obtient-on avec les jetons sous le chapeau ?


○ = 1 point
● = 10 points

1




Quand on soulève le chapeau, on trouve jetons gris et jeton blanc.
Donc on obtient points.

2





Quand on soulève le chapeau, on trouve jetons gris et jeton blanc.
Donc on obtient points.

3



Quand on soulève le chapeau, on trouve jetons gris et jetons blancs.
Donc on obtient points.

4



Quand on soulève le chapeau, on trouve jeton gris et jetons blancs.
Donc on obtient points.