



Corrigé exercice 1

Mélissa a enfilé des perles. De quelle couleur est la première perle ? 



De quelle couleur est :

- la quatrième perle ? 
- la dernière perle ? 

Corrigé exercice 2




Combien d'élèves sont devant elle ? 49

Quelle est la position de Théo ? 52

Quelle est la position de Mélissa ? 45

Corrigé exercice 3

Léa a enfilé des perles. De quelle couleur est :

- la première perle ? 
- la dernière perle ? 
- la troisième perle ? 



Corrigé exercice 4

Combien de personnes sont devant elle ? 22

Quelle est la position de Nils qui a le casque **jaune** ? 25^e

Quelle est la position de Maya qui a le casque **bleu** ? 22^e

Corrigé exercice 5

$$17 \times 4 = 10 \times 4 + 7 \times 4$$

$$17 \times 4 = \underline{40} + \underline{28}$$

$$17 \times 4 = \underline{68}$$

$$24 \times 5 = 20 \times 5 + \underline{4} \times 5$$

$$24 \times 5 = \underline{100} + \underline{20}$$

$$24 \times 5 = \underline{120}$$